

1. Что такое порок древесины?

- Б) дефекты древесины, отклонение от нормы в строении;
- В) изменения формы;
- Г) естественное строение;
- Д) влажность.

2. К механическим свойствам древесины относятся:

- А) твердость;
- Б) прочность;
- В) влажность;
- Г) упругость.

3. Какой линией на чертеже изображают видимые контуры детали?

- А) штриховая;
- Б) штрихпунктирная;
- В) сплошная основная (толстая);
- Г) сплошная тонкая.

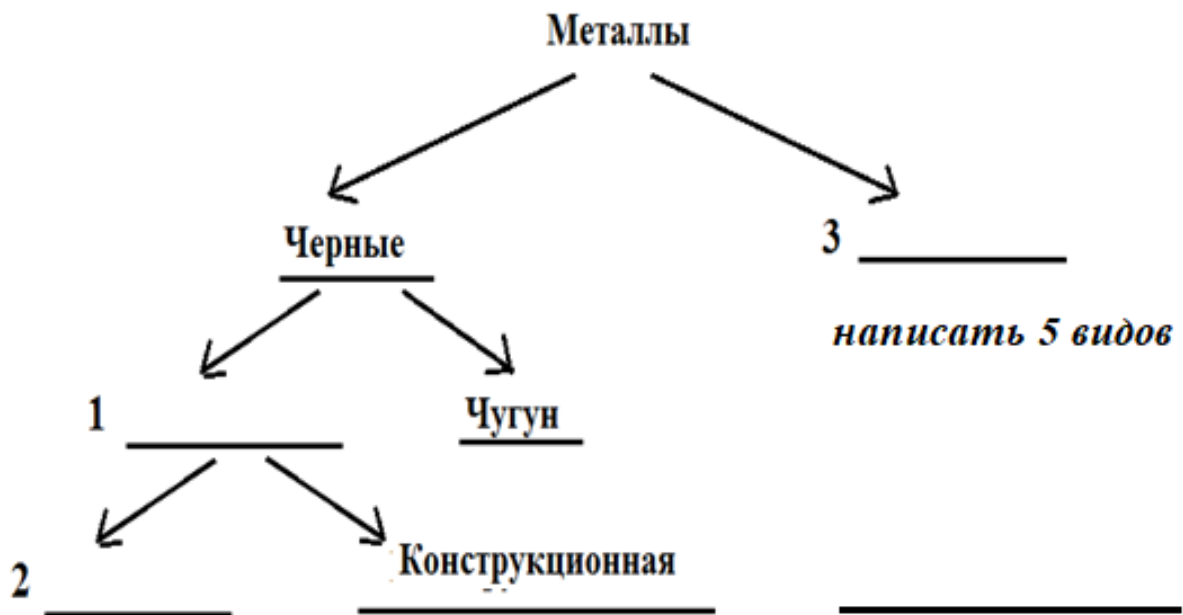
4. Какие инструменты относятся к слесарным:

- А) зубило;
- Б) рубанок;
- В) напильник;
- Г) шерхебель;
- Д) слесарная ножовка;
- Е) молоток.

5. Технологическая карта содержит сведения:

- А) только о необходимых для изготовления изделий инструментах;
- Б) только о размерах изделия;
- В) только о необходимых для изготовления изделий приспособлениях;
- Г) о технологических операциях, инструментах и приспособлениях, необходимых для изготовления изделия, а так же графические изображения последовательности изготовления изделия.

6. Заполните схему «Классификация металлов».

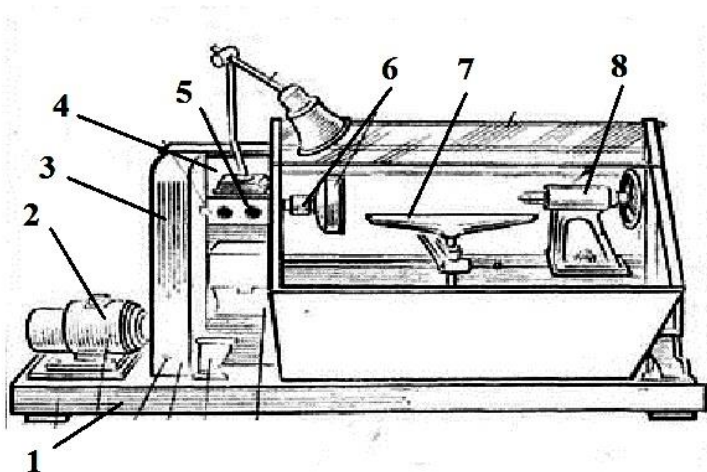


7. К механическим свойствам металлов относятся:

- А) прочность;
- Б) твердость;
- В) жидкотекучесть;
- Г) свариваемость;
- Д) упругость;
- Е) ковкость;
- Ж) обрабатываемость резанием;
- З) пластичность.

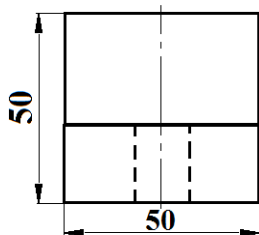
8. сопоставить букву к цифре (станок для обработки древесины)

- А) ограждение ременной передачи;
- Б) задняя бабка;
- В) передняя бабка;
- Г) электродвигатель;
- Д) кнопочный выключатель;
- Е) шпиндель;
- Ж) подручник;
- З) основание;

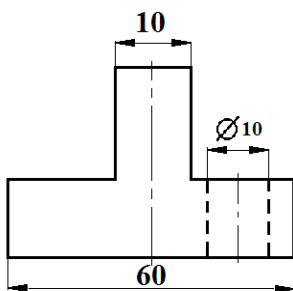


9. Начертить чертежи и недостающий на чертеже вид детали (вид сверху) с соблюдением размеров.

Главный вид



Вид сбоку



Вид сверху